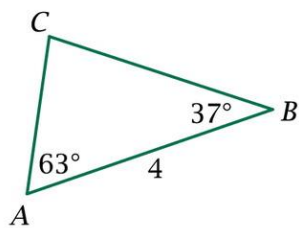
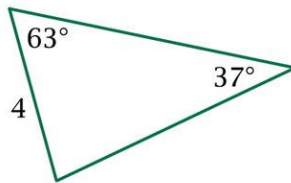


Temat: Powtórzenie wiadomości o figurach płaskich. Trójkąty i czworokąty.

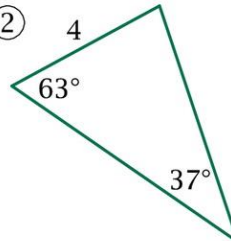


7. Który z niżej narysowanych trójkątów jest przystający do trójkąta ABC ?

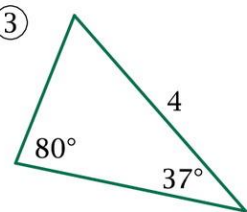
①



②

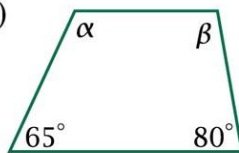


③



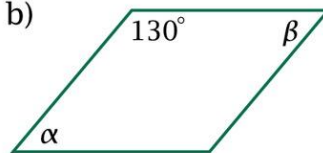
12. Oblicz miary kątów α i β :

a)



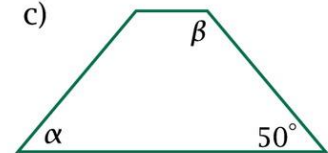
trapez

b)



równoległobok

c)



trapez równoramienny

15. a) Oblicz pole rombu o przekątnych długości $2\sqrt{2}$ i $4\sqrt{3}$.

b) Jaki obwód ma kwadrat o polu równym 20 cm^2 ?

16. Boki równoległoboku mają 10 cm i 12 cm , a krótsza wysokość ma 6 cm . Oblicz drugą wysokość.