

Temat: Pola trapezu – powtórzenie


1. W poniższych trapezach zmierz długości podstaw, a następnie dorysuj i zmierz wysokości. Oblicz pola trapezów.



$P =$
.....

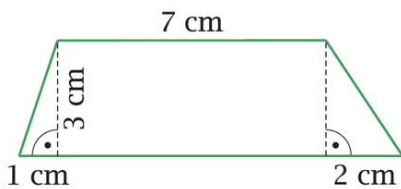


$P =$
.....

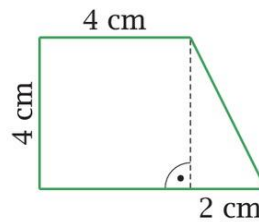


$P =$
.....

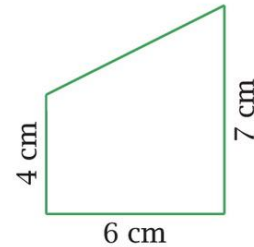
2. Oblicz pola poniższych trapezów.



$P =$
.....

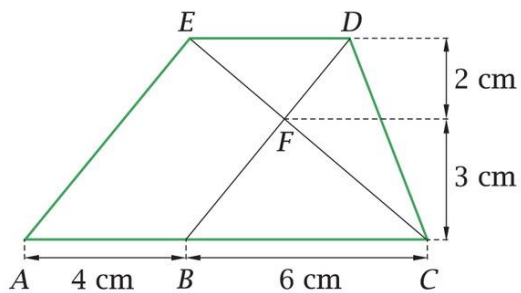


$P =$
.....



$P =$
.....

5. Uzupełnij tabelkę.



Wielokąt	Pole wielokąta
trójkąt BCF
równoległobok $ABDE$
trapez $ACDE$
trójkąt EFD
trapez $ABFE$